

GWEITHDREFNOL

5CG14

Enw cyntaf _____

Cyfenw _____

Ysgol _____

Dosbarth _____

Dyddiad geni ○○ ○○ ○○○○

Dyddiad y prawf ○○ 05 2014

Cyfanswm y sgôr (uchafswm 35)



117568



Llywodraeth Cymru
Welsh Government

1

Hanner 600 =

Dwbl 260 =

2

 $\frac{1}{2}$ m = cm $\frac{1}{2}$ cm = mm

3

Rhowch gylch o amgylch pob rhif sydd yn nhabl 4

34

16

24

36

18

4 Ysgrifennwch y rhif sydd 10 yn llai na 1000



5



Pa gyflymder sy'n cael ei ddangos?

milltir yr awr



6

$$375 + 207 =$$



$$509 - 278 =$$



7 Ysgrifennwch y rhain yn eu trefn.

1.6 1.46 1.06 1.4

y lleiaf

y mwyaf

8

$$725 \div 5 = \boxed{}$$

Ysgrifennwch gyfrifiad i wirio eich ateb.

×

=

9 Cymerodd Alun 4 munud ac 15 eiliad i redeg ras.

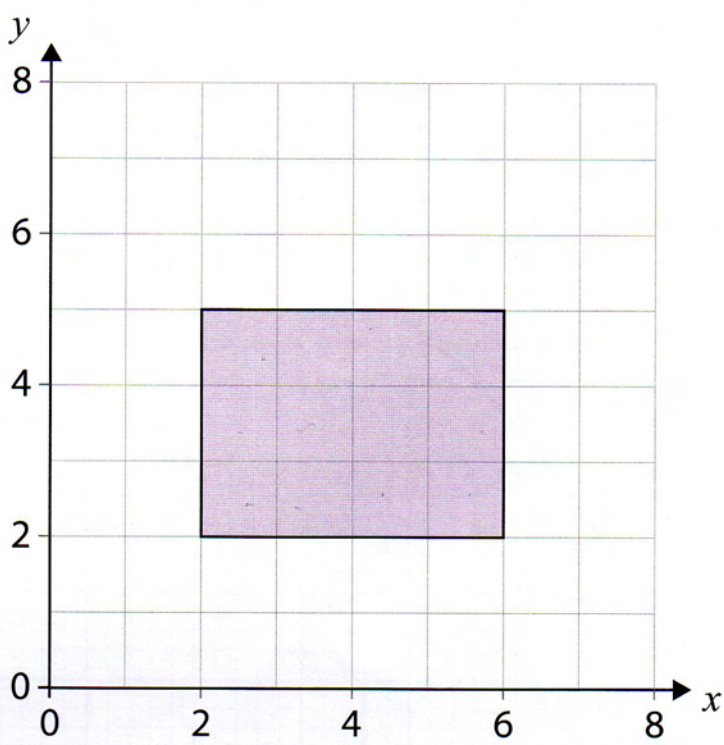
Cymerodd Cerys 20 eiliad **yn llai** nag Alun.

Cymerodd Cerys

munud a

eiliad.

10 Mae'r petryal sydd wedi'i liwio yn 4cm o hyd ac yn 3cm o uchder.



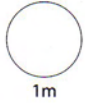
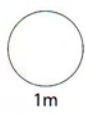
Beth yw **arwynebedd** y petryal?

cm²

Mae gan y petryal bedwar fertig.

Dau o'r rhain yw (2, 2) a (6, 5).

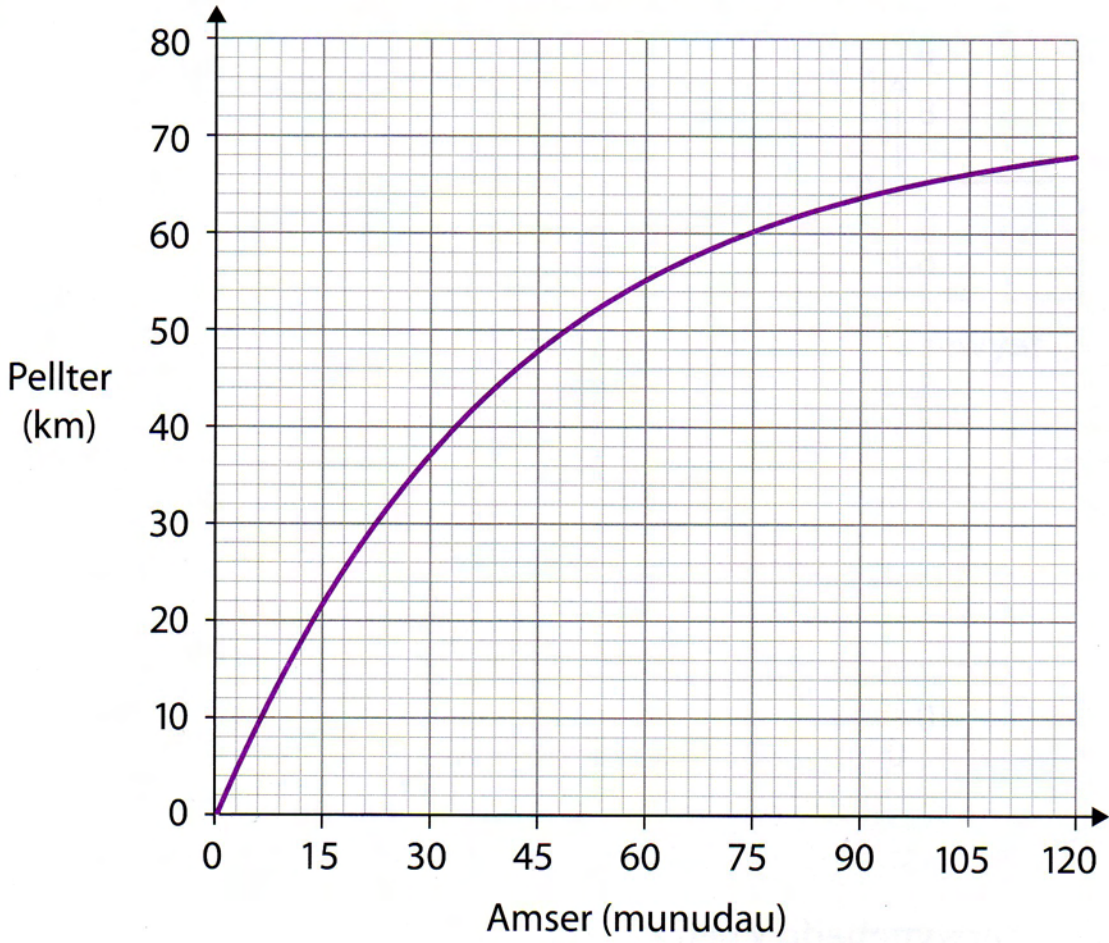
Beth yw cyfesurynnau'r ddau fertig arall?



CYFANSWM



Yr amser mae taith car yn ei gymryd



Faint o funudau gymerodd hi i'r car deithio'r 60km cyntaf?

o funudau

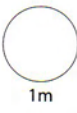
Faint o gilometrau wnaeth y car deithio yn yr awr gyntaf?

km

12

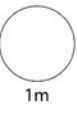
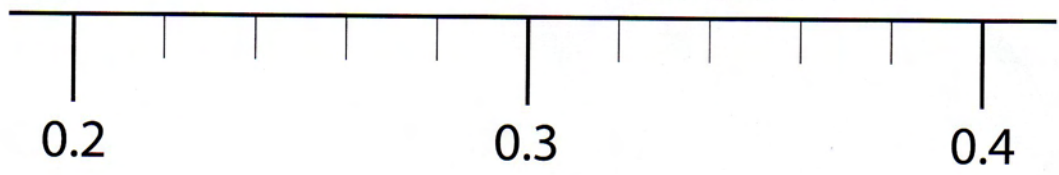
Ysgrifennwch $\frac{1}{4}$ fel degolyn.

Ysgrifennwch 0.3 fel ffracsiwn.



13

Tynnwch lun saeth (↓) sy'n pwyntio at 0.29



14

$$\frac{3}{5} \text{ o } \text{£}20 = \text{£}$$

Mae gan Nia £20

Mae'n gwario £15

Pa ffracsiwn o'r £20 wnaeth Nia ei wario?

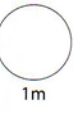
Rhowch gylch o amgylch eich ateb.

$\frac{1}{2}$

$\frac{2}{5}$

$\frac{2}{3}$

$\frac{3}{4}$

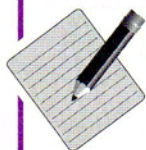


Hoff lyfrau disgyblion Ysgol Iau y Llan

	Blwyddyn 4	Blwyddyn 5	Blwyddyn 6
ffuglen	29	32	27
hanes	26	28	31
gwyddoniaeth	30	28	33

Dewisodd mwy o ddisgyblion **wyddoniaeth** na **hanes**.

Faint yn fwy?



yn fwy

Degfed ran o 5000 =

£1.60




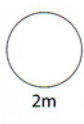
£1.35



Mae Jon yn prynu 1 ddioid a 2 gacen.

Mae'n talu gyda phapur £10

Faint o newid mae Jon yn ei gael?

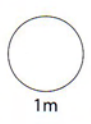



18 Mae 144 o hoelion mewn 1 pecyn.



Faint o hoelion sydd mewn 3 phecyn?

o hoelion



Y ddrama yn dechrau

19:40

Y ddrama yn gorffen

22:10

Pa mor hir mae'r ddrama yn para?

awr a

munud.

Hyd chwilod:

Buwch goch gota,
8mm

Goliath, 114mm



Talgrynnwch i'r 10mm agosaf.

Hyd y chwilen hirgorn = 14.6cm



Hyd chwilen y dom = 2.9cm

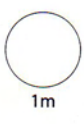


Y **gwahaniaeth** rhwng eu hyd =

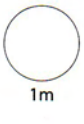
 cm

21

$\times 10 = 23$



$410 \div 100 =$



22

8 bag o greision am £3.20

Faint mae 6 bag o greision yn ei gostio?

