

GWEITHDREFNOL

3CG14

Enw cyntaf _____

Cyfenw _____

Ysgol _____

Dosbarth _____

Dyddiad geni ○○ ○○ ○○○○

Dyddiad y prawf ○○ (05) (2014)

Cyfanswm y sgôr (uchafswm 30)



117566



Llywodraeth Cymru
Welsh Government

1 Rhowch gylch o amgylch **dau** rif sy'n **adio** i wneud **20**

4

7

10

13

17

2 Dyma'r darnau arian sydd gan Ella.

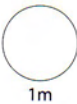
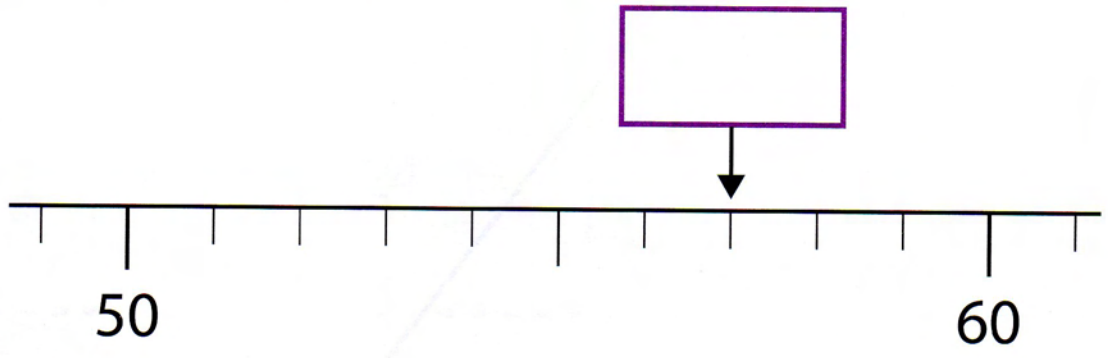


Faint o arian sydd ganddi hi?

Mae Ella yn gwario **12c.**

Faint o arian sydd ganddi hi nawr?

3 At ba rif mae'r saeth yn pwyntio?



4 Hoff ffrwyth plant Dosbarth 3

banana	
oren	
gellygen	
afal	

Allwedd:
 = 4 o blant

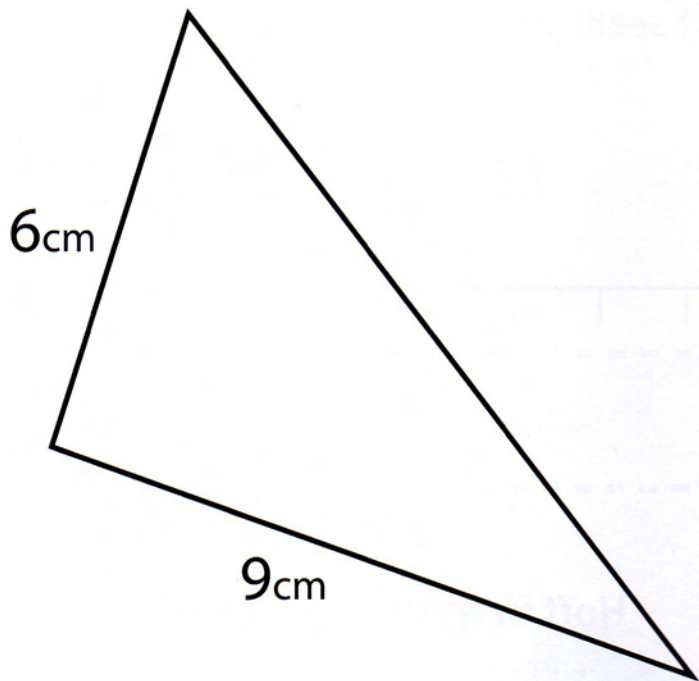
Dewisodd **8** o blant afal.
 Dangoswch hyn ar y pictogram.

Faint o blant wnaeth **ddim** dewis afal?

o blant



5



Defnyddiwch bren mesur i fesur ochr **hiraf** y triongl hwn.

Cyfrifwch **berimedr** y triongl.

6 $38 + 26 =$

$47 - 24 =$

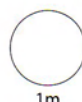


7 Mae 6 o ganiau ym mhob pecyn.

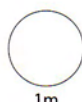


Faint o ganiau sydd mewn 3 phecyn?

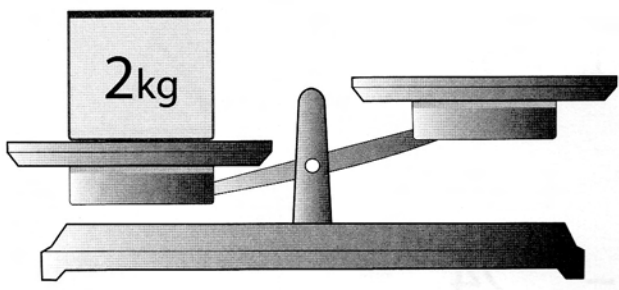
o ganiau



8 Beth yw $\frac{1}{4}$ 20?



9




Mae gan Tom nifer o bwysau sy'n $\frac{1}{2}$ kg yr un.

Faint ohonyn nhw fydd yn gwneud y glorian yn gytbwys?


10 Didolwch 13, 30 a 22 i'r blychau cywir ar y diagram.

	rhifau sydd yn nhabl 3	rhifau sydd ddim yn nhabl 3
eilrifau		
odrifau		


11 Cysylltwch bob cloc â'r amser cywir.



3:50



6:35



7:25

11:20

2:50

Mae Anna yn codi am 7:20am.

Faint o funudau cyn 8:00am yw hyn?

o funudau



12




$$£1 - 70c + \boxed{}c = 50c$$

13

$$8 \times \boxed{} = 80$$

$$8 \times 5 \times \boxed{} = 80$$

14



Defnyddiwch ddau o'r arwyddion hyn i wneud brawddeg rif.

$$62 \quad \bigcirc \quad 49 \quad \bigcirc \quad 13$$

Nawr, gwnewch frawddeg rif **wahanol**.

$$62 \quad \bigcirc \quad 49 \quad \bigcirc \quad 13$$



Hufen iâ
£1.25



Siocled
30c



Loli iâ
65c

Mae Jack yn prynu 1 hufen iâ a 2 siocled.

Faint mae'n ei dalu?

£



Mae Nia yn prynu 1 siocled a 2 loli iâ.

Mae'n talu gyda darn £2

Faint o newid mae hi'n ei gael?





16 Y **gwahaniaeth** rhwng dau rif yw **10**


Un o'r rhifau yw **50**

Beth allai'r rhif arall fod?


Pa rif arall allai hwn fod?

17

Mae $15 \div 5$ yn rhoi'r un ateb â $30 \div$



Pecyn o
5 cerdyn

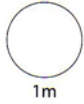


Pecyn o
3 cherdyn

Mae Sam yn prynu 6 phecyn o 5 cerdyn a
3 phecyn o 3 cherdyn.

Faint o gardiau yw hynny gyda'i gilydd?

o gardiau



Mae Ben yn prynu 16 o gardiau.

Faint o becynnau o 5 cerdyn a faint o becynnau o 3 cherdyn
mae'n eu prynu?

pecyn o 5 cerdyn

a

pecyn o 3 cherdyn

