

GWEITHDREFNOL

2CG14

Enw cyntaf _____

Cyfenw _____

Ysgol _____

Dosbarth _____

Dyddiad geni ○○ ○○ ○○○○

Dyddiad y prawf ○○ (0) (5) (2) (0) (1) (4)

Cyfanswm y sgôr (uchafswm 28)



117565






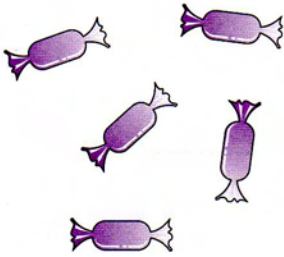
Llywodraeth Cymru
Welsh Government

1



Faint o hosanau?

o hosanau

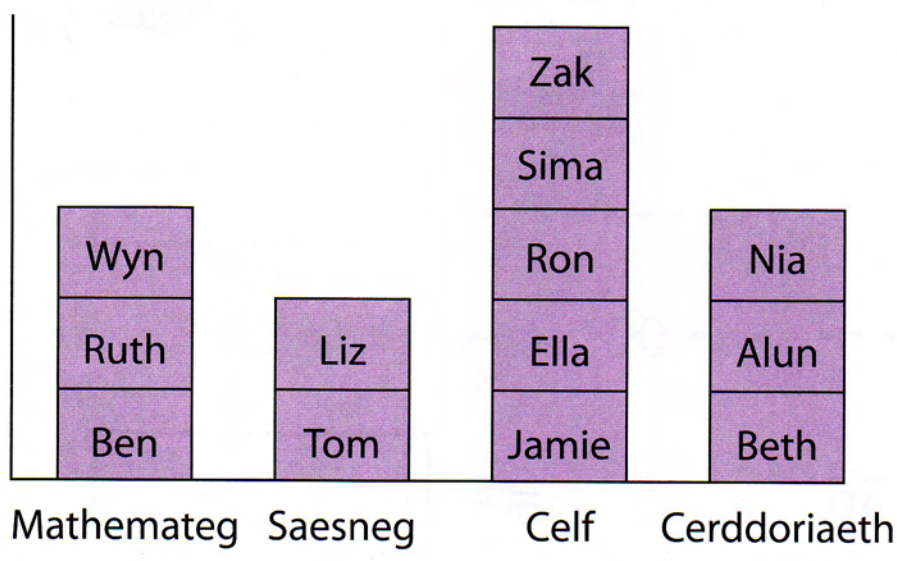


Mae Sam yn bwyta 6 losin.

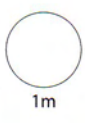
Faint o losin sydd ar ôl?

o losin

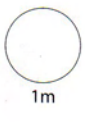
2 Mae plant yn dewis eu hoff bwnc.



Faint sy'n dewis **Saesneg**?



Pa bwnc mae'r **rhan fwyaf** o'r plant yn ei ddewis?



3 Ysgrifennwch y rhain yn eu trefn.

Nawr.

54

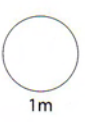
34

45

43

y lleiaf

y mwyaf



4 Mae gan **un** fuwch goch gota **6** o goesau.



Faint o goesau sydd gan **ddwy** fuwch goch gota?

o goesau

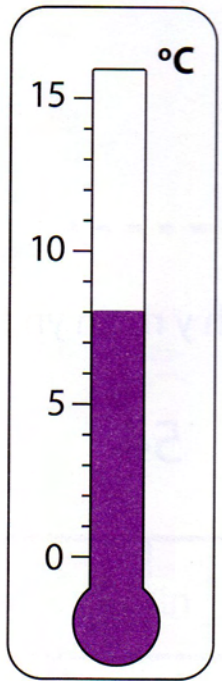
5 $36 + 5 =$

$60 - 4 =$


6 Edrychwch ar y thermomedr.

Beth yw'r tymheredd?

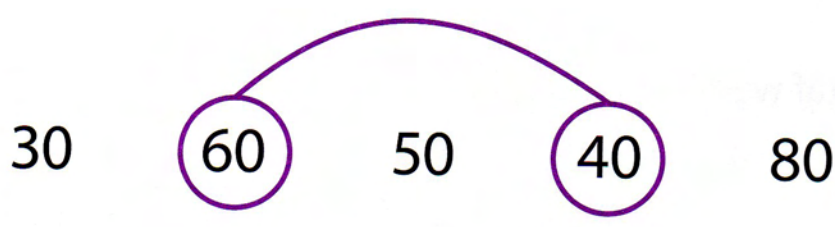
°C



7 Cyfrifwch ymlaen fesul **deg**.



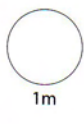
8 Mae dau rif yn cael eu cysylltu i wneud **100**



Cysylltwch ddau o'r rhifau hyn i wneud **100**



Nawr, cysylltwch ddau o'r rhifau hyn i wneud **100**



9 Mae gan Tom **18c**.

Mae gan Ella **hanner** yr arian sydd gan Tom.

Faint sydd gan Ella?

10 Ysgrifennwch yr amserau ar y clociau digidol 12-awr.

Mae'r cyntaf wedi'i wneud i chi.

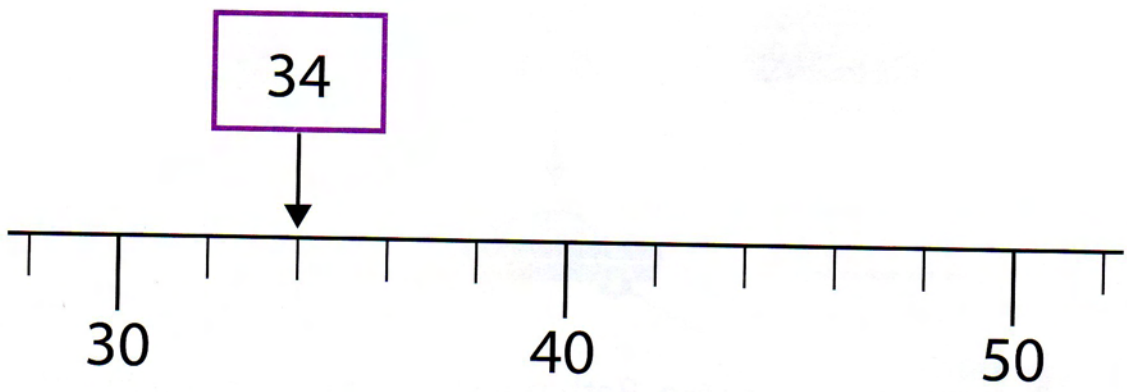
6 o'r gloch

hanner awr wedi 9

chwarter i 8

11 Mae'r saeth yn pwyntio at 34

Tynnwch lun saeth (↓) i bwyntio at 48



12 Cysylltwch y cardiau sy'n rhoi yr un ateb.

$$15 - 11$$

$$17 - 9$$

$$19 - 14$$

$$21 - 15$$


$$50 \div 10$$

$$2 \times 2$$

$$4 \times 2$$

$$30 \div 5$$

13 Mae Ben yn wynebu'r car.



Mae'n gwneud **hanner tro**. Beth mae Ben yn ei wynebu nawr?
Rhowch gylch o amgylch eich ateb.

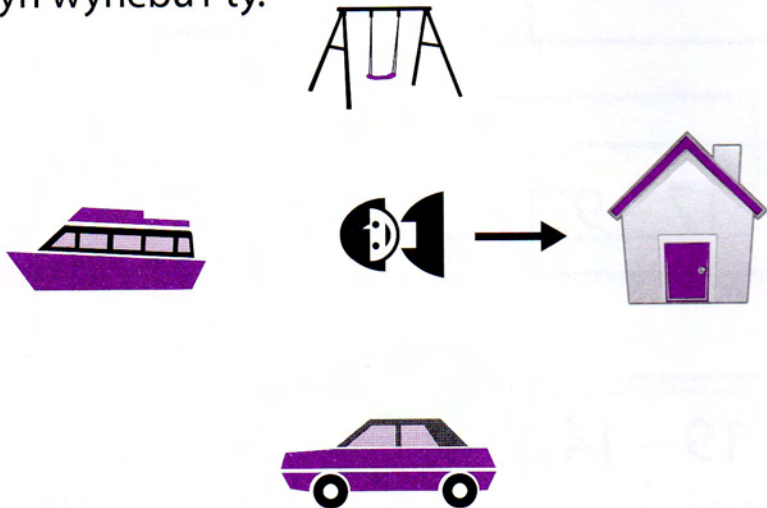
siglen

tŷ

car

cwch

Mae Anna yn wynebu'r tŷ.



Mae'n gwneud **chwarter tro clocwedd**. Beth mae Anna yn ei wynebu nawr?

Rhowch gylch o amgylch eich ateb.

siglen

tŷ

car

cwch

Dangoswch yr **unedau** sy'n cael eu defnyddio i fesur.

Mae un wedi'i wneud i chi.

Hyd pensil

oriau

centimetrau

Amser yn cysgu

litrau

Faint mae plentyn yn ei bwysu

metrau

Faint o ddŵr sydd mewn bwced

cilogramau

15 Rhowch y rhif cywir yn y blwch.

$$38 + 23 = \boxed{} + 38$$

16



Orennau
30c yr un



Afalau
25c yr un

Mae Meg yn prynu **dau** oren ac **un** afal.

Mae'n talu gyda darn **£1**



Faint o newid mae Meg yn ei gael?


17 Mae 4 o blant yn rhannu'r arian yma'n **gyfartal**.



Faint mae pob plentyn yn ei gael?

Empty box with 'c' label for the answer.

18



Defnyddiwch ddau o'r arwyddion hyn i greu brawddeg rif.

55 ○ 20 ○ 35

Nawr, defnyddiwch ddau o'r arwyddion i wneud brawddeg rif **wahanol**.

55 ○ 20 ○ 35

