

RHESYMU

4CRh14

Enw cyntaf _____

Cyfenw _____

Ysgol _____

Dosbarth _____

Dyddiad geni ○○ ○○ ○○○○

Dyddiad y prawf ○○ (05) (2014)

Cyfanswm y sgôr (uchafswm 20)



117615



Llywodraeth Cymru
Welsh Government



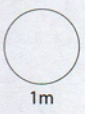
7 lyb



9 lyb



lyb



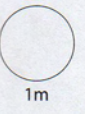
2 lyb



6 lyb



lyb



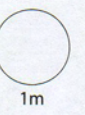
15 lyb



10 lyb



lyb



Siop hetiau



5 lyb yr un



2 lyb yr un



3 lyb yr un

Mae gan Hatty **20** lyb i brynu hetiau.

Dyma un ffordd y gall brynu hetiau sy'n costio **20** lyb.



a



a



Rhowch bedair ffordd **wahanol** y gall Hatty brynu hetiau sy'n costio 20 lyb.



a



a



a



a



a



a



a



a



2 Mae 12 o blant mewn cylch.
Maen nhw wedi'u rhifo o 1 i 12



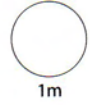
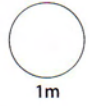
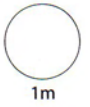
Mae 3 gyferbyn â 9

Mae 12 gyferbyn â

Mae 100 o blant mewn cylch.
Maen nhw wedi'u rhifo o 1 i 100

Mae 100 gyferbyn â

Mae 25 gyferbyn â



3 Mae gan Abbi dri phâr o esgidiau:



glas (G)



melyn (M)



pinc (P)

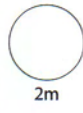
Mae hi bob tro'n gwisgo esgidiau o liwiau **gwahanol!**

Enghraifft:

Ei throed dde	Ei throed chwith
G	M




Dangoswch yr **holl** wahanol ffyrdd y mae'n gallu gwisgo'i hesgidiau.



4 Mae gan Aled chwe dis.

Mae'r rhifau 1, 2, 3, 4, 5 a 6 ar bob dis.

Mae'n gwneud y tŵr hwn.



Beth yw **cyfanswm** y rhifau y gallwch eu gweld ar y tŵr?

Mae Aled yn defnyddio pob un o'r chwe dis i wneud tŵr **newydd**.

Y cyfanswm **lleiaf** posibl yw

Y cyfanswm **mwyaf** posibl yw

Mae'n defnyddio **rhai** o'r disiau i wneud tŵr newydd.

Y cyfanswm mwyaf posibl yw **24**


Faint o ddisiau mae'n eu defnyddio?

5 Dyma Sammy'r falwoden.



Mae'n araf iawn.

Mae'n dringo'r grisiau o ● i ●




Mae'n cymryd **30 munud** i ddringo **i fyny** pob gris. ↑

Mae'n cymryd **15 munud** i symud **ar hyd** pob gris. →

Mae'n dechrau dringo am **6am**.

Faint o'r gloch yw hi erbyn iddo gyrraedd ●?



Mae'n cyrraedd ● am

4m

CYFANSWM
8m